






Sources de lumières

Question :

Parmi les images données ci-dessous, entoure celles dans lesquelles on produit (fabrique) de la lumière et indique le numéro de celles dans lesquelles la lumière reçue est renvoyée.



Numéros de images dans lesquelles on montre de la lumière renvoyée :

Handwriting practice line with a grid background.

Structuration :

Handwriting practice line with a grid background.

Les sources qui produisent de la lumière sont des sources _____

Les sources qui renvoient la lumière qu'elles reçoivent sont des sources _____